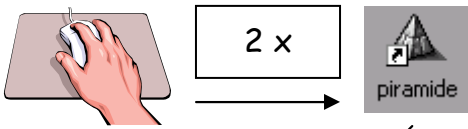


# piramide



## Optellen tot honderd in een piramide

Reken rij voor rij uit.  
Het blokje boven de twee eronder is het totaal van die twee.  
Alleen blokjes met een "?" moet je nog vullen.  
Klik op één vraagteken en geef het antwoord.  
Twee blokjes naast elkaar met een 5 en 6 geeft als antwoord 11 in het blok erboven.  
Je speeltijd is 5 minuten.

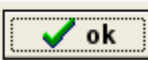
### Piramide

Versie 1.0

Rekenpiramide laat je optellen en aftrekken tot ongeveer 100.

[stuur een mailtje voor informatie](#)

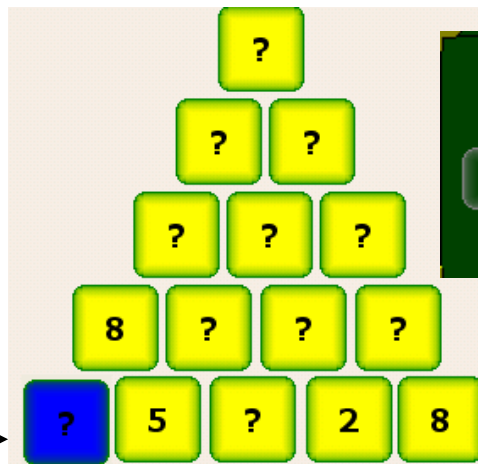

<http://www.town.nl/edusoft>



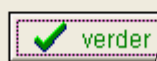
Ja

Nee

Wat is jouw naam?



Deze rekenpiramide heb je opgelost!  
Klik op verder om de volgende te maken.



ok

Ja

