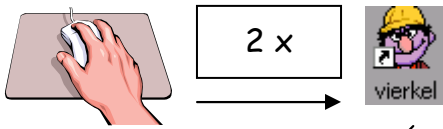




vierkel



Eenvoudige vergelijkingen oplossen.
Zoek de ontbrekende getallen.

 tussen 0 en 20
 tussen 0 en 10

Vierkel Versie 1.0

Zoek de twee verdwenen getallen?

[stuur een mailtje voor informatie](mailto:info@town.nl)

<http://www.town.nl/edusoft>

ok

Bij VIERKEL zijn twee getallen spoorloos verdwenen.
De jonge dame heeft enkele punten tussen 0 en 20.
De bouwvakker heeft dat ook, tussen 0 en 10.

Er zijn 3 sommen gemaakt.
Maar hoeveel punten horen bij het meisje
en hoeveel bij de bouwvakker?
Je speeltijd is 5 minuten.

start

Wat is jouw naam?

ok

 +  = 9

 -  = 3

 x  = 18



  0 



  0 



$6 + 3 = 9$




$6 - 3 = 3$



$6 \times 3 = 18$

 +  = 9

 -  = 3

 x  = 18

  6 

  3 