



Surf naar digitips >> derde graad >> wiskunde >> rekenweb.
Start de pagina van je leerjaar en zoek daar het spel Toverboek.


Je ziet drie toverboeken.



toverboek 21



toverboek 31



toverboek 41

In elk toverboek zitten twee dieren verstopt.
Ben jij een supertovenaar? Vind je alle dieren?
Noteer het getal bij elk dier dat je tevoorschijn tovert.

<p>Getal:</p>	<p>Getal:</p>	<p>Getal:</p>
<p>Getal:</p>	<p>Getal:</p>	<p>Getal:</p>