



Naam: \_\_\_\_\_

Datum: \_\_\_\_\_

## Congo

### 1. Algemeen

*issy.be'*. Ga naar '3<sup>de</sup>



In welk werelddeel ligt Congo? \_\_\_\_\_



Kleur Congo rood in op de kaart.



Congo heeft 9 buurlanden. Welke? Geef ze een kleurtje in de legende en kleur ze juist in op de kaart.

#### LEGENDE

- \_\_\_\_\_
- \_\_\_\_\_
- \_\_\_\_\_
- \_\_\_\_\_
- \_\_\_\_\_
- \_\_\_\_\_
- \_\_\_\_\_
- \_\_\_\_\_
- \_\_\_\_\_

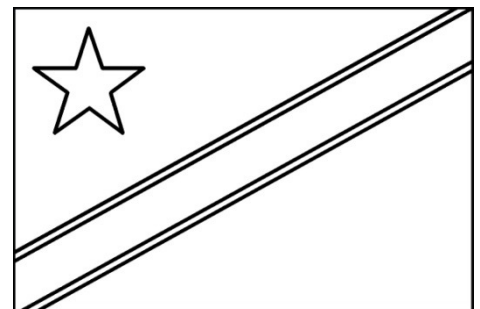



Vul de identiteitskaart in.

_____
_____ km <sup>2</sup>
_____ inwoners
_____
_____
_____



Kleur de vlag van Congo in.





Naam: \_\_\_\_\_

Datum: \_\_\_\_\_

## Congo

### 2. De taal



Open internet explorer en typ in de adresbalk 'supergoudvisje.classy.be'. Ga naar '3<sup>de</sup> graad' → 'W.O.' → 'Congo' → '2. De taal' → 'opdracht 1'.



Welke talen spreekt men in Congo? Geef ze een kleurtje in de legende en kleur ze juist in op de kaart.

#### LEGENDE



\_\_\_\_\_



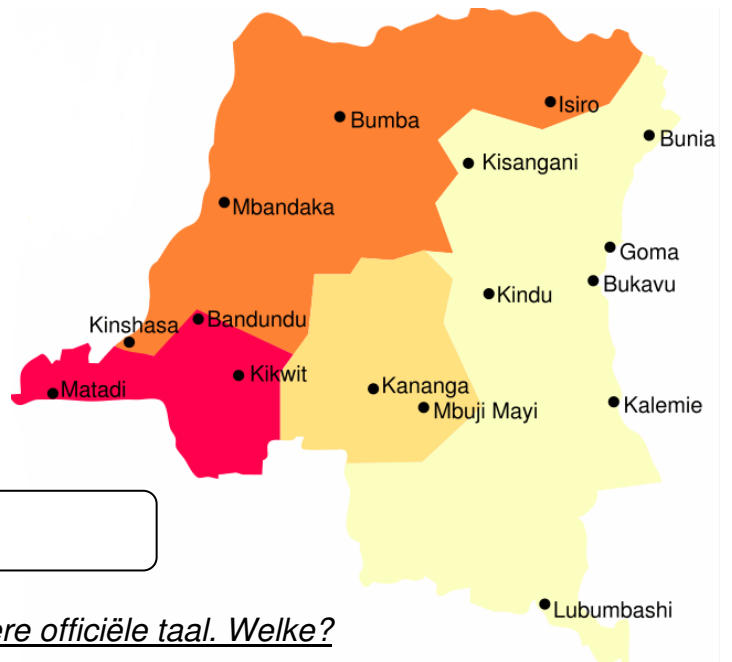
\_\_\_\_\_



\_\_\_\_\_



\_\_\_\_\_



Ga naar 'opdracht 2'.



Naast deze 4 talen is er nog een andere officiële taal. Welke?

\_\_\_\_\_



Ga naar 'opdracht 3'.



Tel tot 10 in het Swahili.

1 \_\_\_\_\_

6 \_\_\_\_\_

2 \_\_\_\_\_

7 \_\_\_\_\_

3 \_\_\_\_\_


8 \_\_\_\_\_

4 \_\_\_\_\_

9 \_\_\_\_\_

5 \_\_\_\_\_

10 \_\_\_\_\_



Naam: \_\_\_\_\_

Datum: \_\_\_\_\_

## Congo

### 3. Wat eten we vandaag?



Open internet explorer en typ in de adresbalk 'supergoudvisje.classy.be'. Ga naar '3<sup>de</sup> graad' → 'W.O.' → 'Congo' → '3. Voedsel' → 'opdracht 1'.



Hoe heet deze eetbare wortelknol?

\_\_\_\_\_ of \_\_\_\_\_



In welke werelddelen staat dit eten op het menu?

\_\_\_\_\_ en \_\_\_\_\_



Oorspronkelijk komt deze plant van Zuid-Amerika. Wie bracht hem naar Afrika?



Je kan de plant maar beter niet rauw eten. Waarom niet?



Wat doet men met de wortelknol om hem eetbaar te maken?



Ga naar 'opdracht 2'.



Welk voedsel zie je hier op foto?



Welke soort koop je in België? Wat is het verschil?



Ga naar 'opdracht 3'.



Waarom wordt er honger geleden in een zo vruchtbaar land?



Naam: \_\_\_\_\_

Datum: \_\_\_\_\_

## Congo

### 4. Geografie



Open internet explorer en typ in de adresbalk 'supergoudvisje.classy.be'. Ga naar '3<sup>de</sup> graad' → 'W.O.' → 'Congo' → '4. geografie'.



Wat valt je onmiddellijk op als je deze hydrografische kaart bekijkt?

\_\_\_\_\_



Ga naar 'opdracht 2'.



Hoe heet de grootste rivier van het land?

\_\_\_\_\_



Ga naar 'opdracht 3'.



De rivier komt steeds op de 2<sup>de</sup> plaats?

- Hij stroomt door het op één na grootste \_\_\_\_\_ ter wereld.
- Hij heeft het op één na hoogste \_\_\_\_\_.
- Hij heeft het op één na grootste \_\_\_\_\_.



Ga naar 'opdracht 4'. Bekijk het videofragment.



Congo is eigenlijk een enorm rijk land! Welke grondstoffen kunnen er ontgonnen worden?

\_\_\_\_\_



Waarom is deze industrie vervallen?

\_\_\_\_\_

\_\_\_\_\_

\_\_\_\_\_



Ga naar 'opdracht 5'. Bekijk het videofragment.



Wat is één van de redenen voor de burgeroorlog in Oost-Congo?

\_\_\_\_\_

\_\_\_\_\_



Naam: \_\_\_\_\_

Datum: \_\_\_\_\_

## Congo

### 5. Fauna en flora



Open internet explorer en typ in de adresbalk 'supergoudvisje.classy.be'. Ga naar '3<sup>de</sup> graad' → 'W.O.' → 'Congo' → '5. Fauna en flora' → 'opdracht 1'



Hoe wordt het voortbestaan van het regenwoud serieus bedreigd door de mensen?

- \_\_\_\_\_  
- \_\_\_\_\_  
- \_\_\_\_\_



Meer informatie om de identiteitskaarten hieronder in te vullen, vind je onder 'opdracht 2'.



Vul de identiteitskaart in van deze dieren.



Naam: \_\_\_\_\_

Soort: \_\_\_\_\_

Uitzicht: \_\_\_\_\_  
\_\_\_\_\_

Leefgebied: \_\_\_\_\_  
\_\_\_\_\_

Voedsel: \_\_\_\_\_

Bijzonderheden: \_\_\_\_\_



Naam: \_\_\_\_\_

Soort: \_\_\_\_\_

Uitzicht: \_\_\_\_\_  
\_\_\_\_\_

Leefgebied: \_\_\_\_\_  
\_\_\_\_\_

Voedsel: \_\_\_\_\_

Bijzonderheden: \_\_\_\_\_



Ga naar 'opdracht 3'.



Hoe komt het dat er veel minder vis is in het Edwardmeer dan vroeger?

---

---



Waarom is het zelfs voor de parkwachters van de natuurreservaten gevaarlijk werken?

---

---



Ga naar 'opdracht 4'.



Waarom jagen stropers op bonobo's?

- \_\_\_\_\_

- \_\_\_\_\_

- \_\_\_\_\_



© Emmanuelle Grundmann



Naam: \_\_\_\_\_

Datum: \_\_\_\_\_

## Congo

### 6. Geschiedenis



Open internet explorer en typ in de adresbalk 'supergoudvisje.classy.be'. Ga naar '3<sup>de</sup> graad' → 'W.O.' → 'Congo' → '6. geschiedenis' → 'opdracht 1'



Wie zie je op de foto?

\_\_\_\_\_



Wat had deze man met Congo te maken?

\_\_\_\_\_


\_\_\_\_\_




Waarom gaf hij Congo aan de Belgen cadeau?

\_\_\_\_\_

\_\_\_\_\_



Wanneer werd Congo onafhankelijk verklaard?



Wie zie je hier op de foto?

\_\_\_\_\_



Hij regeerde alleen en had alles in Congo voor het zeggen. Hoe noem je zo'n leider?

\_\_\_\_\_



Wat gebeurde er met heel Congo onder zijn beleid?

\_\_\_\_\_



Wie nam in 1997 de macht over?

\_\_\_\_\_



Wie regeert er nu in Congo?

\_\_\_\_\_



Bekijk de filmpjes over Congo op de dvd 'Het journaal van de eeuw'.